



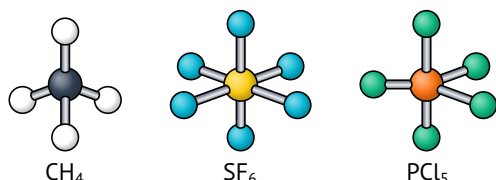
1G.1 A estrutura molecular	1
1G.1a O modelo VSEPR básico	1
1G.1b As moléculas com pares isolados no átomo central	3
1G.1c As moléculas polares	4
1G.2 A teoria da ligação de valência	4
1G.2a As ligações sigma e pi	4
1G.2b A promoção de elétrons e a hibridação de orbitais	5
1G.2c Outros tipos comuns de hibridação	6
1G.2d As características das ligações múltiplas	7

1G.1 A estrutura molecular

As estruturas de Lewis mostram os elos entre os átomos e a presença de pares isolados. Porém, exceto em casos simples, estas estruturas não dizem nada sobre como os átomos estão arranjados no espaço. Neste tópico, as ideias de Lewis são discutidas para ajudá-lo a prever a forma de moléculas simples.

1G.1a O modelo VSEPR básico

Considere uma molécula formada por um átomo central ao qual os outros átomos estão ligados. Muitas dessas moléculas têm a forma das figuras geométricas apresentadas na Fig. 1G.1. Assim, CH_4 é um tetraedro, SF_6 é um octaedro e PCl_5 é uma bipirâmide trigonal.



Em muitos casos, os **ângulos de ligação**, isto é, os ângulos entre ligações adjacentes (as linhas retas que unem os núcleos ao átomo central), são fixados pela simetria da molécula. Esses ângulos de ligação são mostrados na Figura 1. Assim, o ângulo $\text{H}-\text{C}-\text{H}$ de CH_4 é $109,5^\circ$ (o *ângulo do tetraedro*), os ângulos $\text{F}-\text{S}-\text{F}$ de SF_6 são 90° e 180° , e os ângulos $\text{Cl}-\text{P}-\text{Cl}$ do PCl_5 são 90° , 120° e 180° . Os ângulos de ligação de moléculas que não são determinados pela simetria têm de ser determinados experimentalmente. O ângulo de ligação $\text{H}-\text{O}-\text{H}$ da molécula angular H_2O , por exemplo, é, experimentalmente, igual a $104,5^\circ$, e o ângulo $\text{H}-\text{N}-\text{H}$ da molécula NH_3 , uma pirâmide trigonal, é 107° . A principal técnica experimental para determinar os ângulos de ligação de moléculas pequenas é a espectroscopia, especialmente as espectroscopias rotacional e vibracional. A difração de raios X é usada para moléculas maiores. Conhecer as formas das moléculas e os seus ângulos de ligação é essencial no projeto de um novo fármaco utilizando técnicas computacionais.

As estruturas de Lewis (Tópico 1D) mostram apenas como os átomos estão ligados e como os elétrons estão arranjados em torno deles. O **modelo da repulsão dos pares de elétrons da camada de valência** (modelo VSEPR) amplia a teoria da ligação química

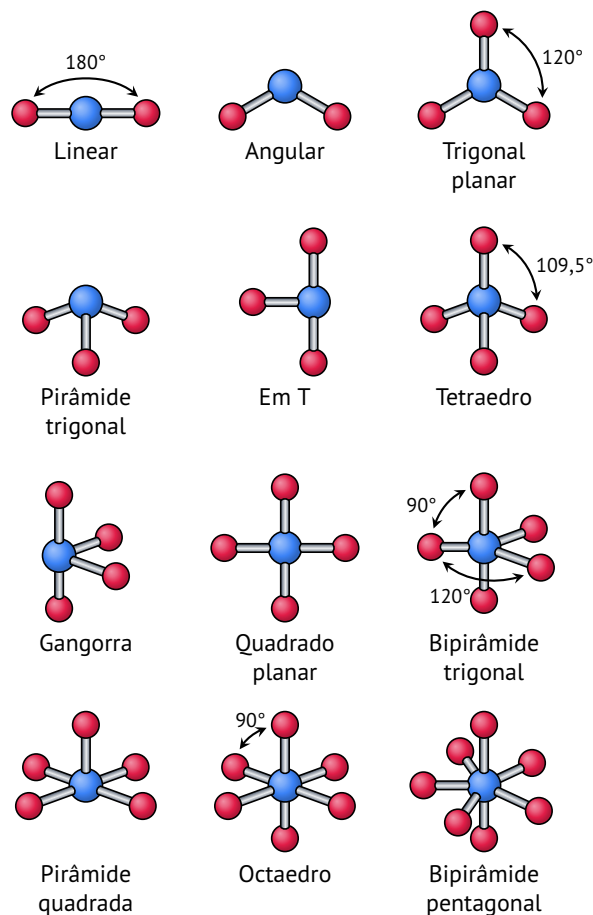


FIG. 1G.1 Nomes das formas de moléculas simples e seus ângulos de ligação. Os pares isolados não foram incluídos porque não são levados em consideração na identificação das formas das moléculas.

de Lewis incluindo regras para explicar as formas das moléculas e os ângulos de ligação:

- **Regra 1:** As regiões de altas concentrações de elétrons (ligações e pares isolados do átomo central) se repelem e, para reduzir essa repulsão, elas tendem a se afastar o máximo possível, mantendo a mesma distância do átomo central (Fig. 1G.2).

Estas localizações *mais distantes* descrevem a configuração eletrônica da molécula. Após a identificação deste arranjo, a posição dos átomos é determinada e a forma da molécula é estabelecida com base na Fig. 1G.1. Observe que, para nomear a forma da molécula, apenas a posição dos átomos é considerada. Os pares isolados que possam estar presentes no átomo central são ignorados, mesmo que afetem esta forma.

A molécula do BeCl_2 tem apenas dois átomos ligados ao átomo central. Não existem pares isolados de elétrons no átomo central. A posição na qual os pares ligantes estão mais afastados é quando eles se encontram em lados opostos do átomo de Be e o arranjo dos elétrons é linear. Os átomos de Cl estão, portanto, em lados opostos do átomo de Be e o modelo VSEPR prediz a forma linear

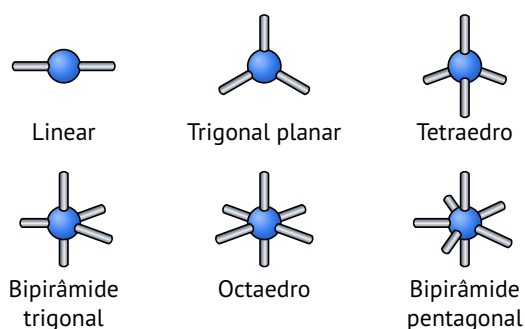
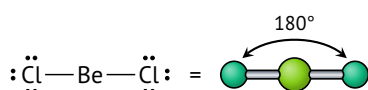
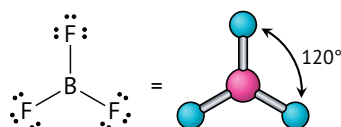


FIG. 1G.2 Posições, de duas a sete, das regiões de alta concentração de elétrons (átomos e pares isolados) ao redor de um átomo central. Essas regiões são representadas por linhas retas que partem do átomo central. Use este diagrama para identificar o arranjo dos elétrons de uma molécula e depois use a Fig. 1G.1. para identificar sua forma a partir da localização dos átomos.

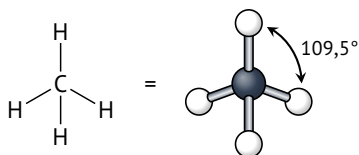
para a molécula de BeCl_2 , com um ângulo de ligação igual a 180° :



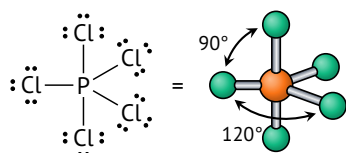
A molécula do trifluoreto de boro, BF_3 , tem três pares ligantes no átomo central e nenhum par isolado. De acordo com o modelo VSEPR, para ficarem o mais afastados possível, os três pares ligantes têm de estar nos vértices de um triângulo equilátero. O arranjo de elétrons é trigonal planar. Como um átomo de flúor liga-se a um dos pares de elétrons, a molécula BF_3 é trigonal planar e os três ângulos $\text{F}-\text{B}-\text{F}$ são iguais a 120° :



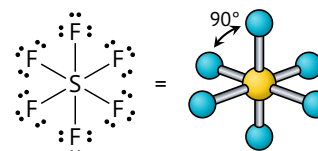
O metano, CH_4 , tem quatro pares ligantes no átomo central. Para ficarem o mais afastados possível, os quatro pares devem estar em um arranjo tetraédrico em torno do átomo de C. Como o arranjo de elétrons é tetraédrico e um átomo de H liga-se a cada um dos pares de elétrons, o modelo VSEPR prediz que a molécula seja tetraédrica, com ângulos de ligação de $109,5^\circ$:



Na molécula de pentacloreto de fósforo, PCl_5 , existem cinco pares ligantes e nenhum par isolado no átomo central. De acordo com o modelo VSEPR, os cinco pares e os átomos a que eles se ligam devem estar afastados o máximo possível em um arranjo de bipirâmide trigonal. Nesse arranjo, três átomos (os átomos **equatoriais**) estão nos vértices de um triângulo equilátero, com ângulos de ligação iguais a 120° . Os outros dois átomos (os átomos **axiais**) estão acima e abaixo do plano do triângulo, em ângulos de 90° em relação aos átomos equatoriais. A forma prevista da molécula é bipirâmide trigonal:



A molécula de hexafluoreto de enxofre, SF_6 , tem seis átomos ligados ao átomo central de S, que não tem pares isolados. De acordo com o modelo VSEPR, o arranjo de elétrons octaédrico, com quatro pares nos vértices de um quadrado planar e os dois outros pares acima e abaixo do plano do quadrado. Um átomo de F está ligado a cada par de elétrons, o que indica que a molécula é octaédrica, com ângulos de ligação de 90° e 180° :



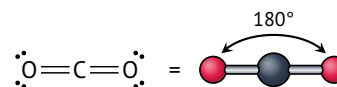
ATENÇÃO

Os seis átomos terminais são equivalentes em uma molécula octaédrica regular.

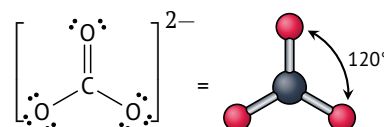
A segunda regra do modelo VSEPR diz respeito ao tratamento de ligações múltiplas:

- **Regra 2:** Uma ligação múltipla é tratada como uma única região de alta concentração de elétrons.

Dito de outra forma, os dois pares de elétrons de uma ligação dupla permanecem juntos e repelem outras ligações ou pares isolados como se fossem uma unidade. Os três pares de elétrons de uma ligação tripla também ficam juntos e agem como uma única região de alta concentração de elétrons. Assim, a molécula de dióxido de carbono, CO_2 , tem estrutura semelhante à da molécula de BeCl_2 , mesmo com as ligações duplas:

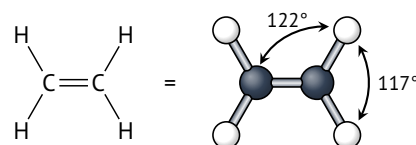


No íon carbonato, CO_3^{2-} , os dois pares de elétrons da ligação dupla são tratados como uma unidade, e a forma resultante é trigonal planar:



Seja simples ou múltipla, toda ligação age como uma unidade. Portanto, para contar o número de regiões de alta concentração de elétrons, basta contar o número de átomos ligados ao átomo central e adicionar o número de pares isolados.

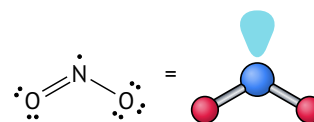
Quando existe mais de um átomo *central*, as ligações de cada átomo são tratadas de modo independente. Como exemplo, para prever a forma de uma molécula de eteno, $\text{CH}_2=\text{CH}_2$, cada átomo de carbono é considerado separadamente. Com base na estrutura de Lewis, observe que cada átomo de carbono tem três regiões de alta densidade eletrônica (duas ligações simples e uma ligação dupla):



O arranjo ao redor de cada átomo de carbono é, então, trigonal planar. Há dois átomos de H e um átomo de C ligados ao átomo de C central. Assim, você pode prever que os ângulos $\text{H}-\text{C}-\text{H}$ e

H—C—C estarão próximos de 120° . Essa estimativa é confirmada em laboratório (os valores medidos são 117° e 122° , respectivamente). Observações experimentais também mostraram que os seis átomos estão no mesmo plano.

O modelo VSEPR trata ligações simples e múltiplas como equivalentes, não importa que estruturas de Lewis contribuam para a estrutura de ressonância que estamos considerando. Por exemplo, a descrição do íon nitrato, NO_3^- baseada na ressonância diz que ele tem três ligações em torno do átomo central (Tópico 1D). Logo, você pode esperar que a molécula seja trigonal plana.



Até agora os pares de elétrons foram tratados como átomos quanto ao efeito na forma. Mas isso está correto? O arranjo dos elétrons do íon SO_3^{2-} é tetraédrico. Por isso, é provável que os ângulos O—S—O sejam de $109,5^\circ$. No entanto, observações experimentais mostraram que, embora o íon sulfito tenha estrutura de pirâmide trigonal, o ângulo de ligação é de apenas 106° . Dados experimentais como esses mostram que o modelo VSEPR, como foi descrito, é incompleto e deve ser melhorado.

Para explicar os ângulos de ligação menores em moléculas com pares isolados, o modelo VSEPR trata os pares isolados como se exercessem maior repulsão do que os pares de ligação. Dito de outro modo, o par isolado empurra os átomos ligados ao átomo central uns contra os outros. Uma possível explicação desse efeito é que a nuvem eletrônica de um par isolado ocupa um volume maior do que a de um par ligado (ou vários pares ligados, nas ligações múltiplas) que está preso a dois átomos, não a um. Em resumo, a regra abaixo ajuda a obter predições segundo o modelo VSEPR com confiabilidade razoável:

- **Regra 4:** A repulsão é exercida na ordem par isolado-par isolado > par isolado-átomo > átomo-átomo.

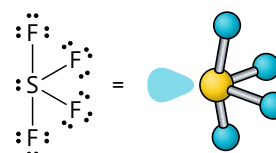
Portanto, devido à forte repulsão, a energia mais baixa é atingida quando os pares isolados estão em posições as mais afastadas possíveis. A energia também é mais baixa se os átomos ligados ao átomo central estiverem afastados dos pares isolados, ainda que isso aproxime os átomos uns dos outros.

O modelo melhorado ajuda a explicar o ângulo de ligação do íon sulfito, AX_3E . Os pares de elétrons adotam um arranjo tetraédrico ao redor do átomo de S. No entanto, o par isolado exerce uma forte repulsão sobre os elétrons ligantes, forçando-os a se aproximar. Como resultado desse ajuste de posições, o ângulo O—S—O se reduz de $109,5^\circ$, do tetraedro regular, para 106° quando observado experimentalmente. Note que, embora o modelo VSEPR prediga a direção da distorção, ele não informa sua extensão. Você perceberá que, em qualquer espécie AX_3E , o ângulo X—A—X será menor do que $109,5^\circ$, mas seu valor real não pode ser previsto: ele precisa ser medido experimentalmente ou calculado resolvendo a equação de Schrödinger numericamente em um computador.

A Regra 4 permite prever a posição em que o par isolado está. Por exemplo, o arranjo dos elétrons de uma molécula ou íon AX_4E , como o SF_4 , é uma bipirâmide trigonal, mas existem duas posições possíveis para o par isolado:

- Um **par isolado axial** encontra-se no eixo da molécula, onde ele repele fortemente os pares de elétrons nas três ligações equatoriais, que estão separadas por ângulos de 90° em relação à posição axial.
- Um **par isolado equatorial** encontra-se no equador da molécula, no plano perpendicular ao eixo desta, onde ele repele fortemente apenas os pares de elétrons das duas ligações axiais.

Portanto, obtém-se menor energia quando o par isolado está na posição equatorial, produzindo uma molécula com a forma de uma gangorra. A molécula se distorce até que os pares isolados fiquem o mais distantes possível uns dos outros e dos pares ligantes, por isso, átomos se afastam ligeiramente do par isolado:

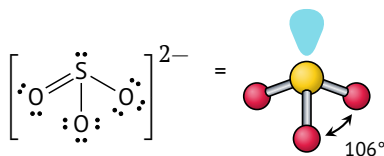


Segundo o modelo VSEPR, as regiões de concentração elevada de elétrons ocupam posições que maximizam a separação entre elas. Os pares de elétrons em uma ligação múltipla são tratados como uma unidade. A forma da molécula é identificada com base nas posições relativas de seus átomos.

1G.1b As moléculas com pares isolados no átomo central

A **fórmula VSEPR** geral, AX_nE_m , é útil para identificar as diferentes combinações de átomos e pares isolados ligados ao átomo central: A representa o átomo central, X um átomo ligado e E um par isolado. As moléculas de mesma fórmula VSEPR têm essencialmente o mesmo arranjo de elétrons e a mesma forma. Assim, ao reconhecer a fórmula, você pode prever a forma (mas não necessariamente o valor numérico preciso dos ângulos de ligação que não são governados pela simetria). Por exemplo, a molécula BF_3 , que contém três átomos de flúor ligados e nenhum par isolado em B, é um exemplo de uma espécie AX_3 , assim como o íon NO_3^{2-} . O íon sulfito, SO_3^{2-} , que tem um par de elétrons isolados no átomo de S, é um exemplo de espécie AX_3E , assim como NH_3 .

Se não existirem pares isolados no átomo central (uma molécula AX_n), cada região de alta concentração de elétrons tem um átomo ligado, e a forma é a mesma do arranjo de elétrons. Se pares isolados de elétrons estão presentes, a forma da molécula é diferente da do arranjo de elétrons, porque somente as posições dos átomos ligados são levadas em consideração na determinação da forma. Por exemplo, as quatro regiões de alta concentração de elétrons no SO_3^{2-} estarão suficientemente afastadas se adotarem o arranjo tetraédrico (Figura 2). Todavia, a forma do íon é determinada somente pela localização dos átomos. Como três dos vértices do tetraedro estão ocupados pelos átomos e um é ocupado pelo par isolado, o íon SO_3^{2-} é uma pirâmide trigonal:

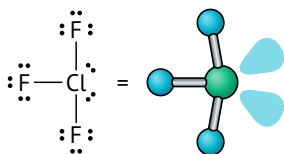


Uma regra importante é

- **Regra 3:** Todas as regiões de concentração eletrônica elevada e todos os pares de elétrons isolados e ligantes são incluídos na descrição do arranjo de elétrons. Todavia, somente as posições dos átomos são consideradas quando descrevemos a forma de uma molécula.

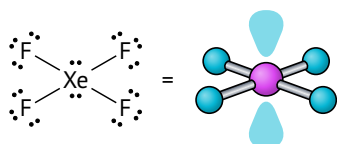
Um elétron desemparelhado no átomo central é tratado como uma região de alta concentração de elétrons e atua como um par isolado na determinação da forma da molécula. Assim, radicais como NO_2 têm um elétron não ligante. Logo, o NO_2 tem um arranjo trigonal planar de elétrons (incluindo o elétron desemparelhado de N), mas sua forma, a configuração de seus átomos, é angular:

Uma molécula AX_3E_2 , como ClF_3 , também tem um arranjo de bipirâmide trigonal de pares de elétrons, mas dois dos pares são pares isolados. Os dois pares estarão o mais afastado possível se ocuparem duas das três posições equatoriais, as quais estão em ângulo de 120° , mas um pouco mais afastados um do outro. O resultado é uma molécula em forma de T:

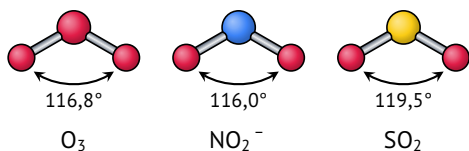


Se os pares isolados estivessem nas posições axiais, eles formariam ângulos de 90° em relação à posição equatorial, resultando em maior repulsão.

Agora, vejamos uma molécula AX_4E_2 , que tem um arranjo octaédrico dos pares de elétrons, dois dos quais são pares isolados. Os dois pares estarão mais distantes se estiverem em posições opostas, levando a uma molécula em um arranjo quadrado planar:



Todas as moléculas de mesma fórmula VSEPR têm sempre a mesma forma, embora os ângulos de ligação possam ser um pouco diferentes. Por exemplo, O_3 é uma espécie AX_2E . Ele tem um arranjo de elétrons trigonal planar e uma forma molecular angular. O ângulo de ligação no O_3 é $116,8^\circ$, valor este que é um pouco menor do que o valor previsto de 120° para uma molécula trigonal plana. O íon nitrito, NO_2^- , tem a mesma fórmula VSEPR geral (com ângulo de ligação de 116°) e a mesma forma. O mesmo ocorre com o dióxido de enxofre, SO_2 , cujo ângulo de ligação é $119,5^\circ$.



ATENÇÃO

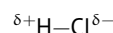
Ocorrem exceções, às vezes, quando a diferença de energia entre duas estruturas possíveis é pequena e o átomo central é tão grande que seus pares isolados exercem efeito muito pequeno na molécula. Por exemplo, a molécula XeF_6 é octaédrica, mesmo com o átomo de Xe contendo um par isolado, além de ligações para os seis átomos.

Nas moléculas que têm pares isolados ou um elétron desemparelhado no átomo central, os elétrons de valência contribuem para o arranjo de elétrons em volta do átomo central, mas só os átomos ligados são considerados na identificação da forma. Os pares isolados distorcem a forma da molécula para reduzir as repulsões entre pares isolados e pares ligantes.

1G.1c As moléculas polares

Uma ligação covalente polar, na qual os elétrons não estão igualmente distribuídos pelos átomos ligados, tem momento de dipolo diferente de zero (Tópico 2E). Uma **molécula polar** é uma molécula com momento de dipolo diferente de zero. Uma molécula

diatômica é polar se sua ligação for polar. Uma molécula de HCl com sua ligação covalente polar é uma molécula polar:



Seu momento de dipolo, igual a 1,1 D, é típico de moléculas diatômicas polares. Todas as moléculas diatômicas formadas por átomos de elementos diferentes têm alguma polaridade. Uma **molécula não polar** é uma molécula cujo momento de dipolo elétrico é igual a zero. Todas as **moléculas diatômicas homonucleares**, formadas por átomos do mesmo elemento, como O_2 , N_2 ou Cl_2 , são não polares devido a suas ligações não polares.

Uma molécula poliatômica pode ser não polar mesmo se suas ligações forem polares. Por exemplo, os dois momentos de dipolo do dióxido de carbono, uma molécula linear, apontam para direções opostas e se cancelam. Por essa razão, o CO_2 é uma molécula não polar. No caso da água, os dois dipolos formam um ângulo de $104,5^\circ$ entre si e não se cancelam. Por isso, H_2O é uma molécula polar. A polaridade é uma das razões pelas quais a água é um solvente tão bom para compostos iônicos.

Na comparação entre o CO_2 e a H_2O , você viu que a forma de uma molécula poliatômica define sua polaridade. O mesmo é válido para moléculas mais complexas. Por exemplo, os átomos e as ligações são os mesmos no *cis*-dicloroeteno e no *trans*-dicloroeteno; mas, neste último, as ligações C–Cl apontam para direções opostas e os dipolos (que estão sobre as ligações C–Cl) se cancelam. Assim, enquanto o *cis*-dicloroeteno é polar, o *trans*-dicloroeteno é não polar.

Se os quatro átomos ligados ao átomo central de uma molécula tetraédrica forem iguais, como no tetraclorometano (tetracloroeto de carbono), CCl_4 , os momentos de dipolo se cancelam e a molécula é não polar. Entretanto, se um ou mais átomos terminais forem substituídos por átomos diferentes, como no triclorometano (clorofórmio), $CHCl_3$, ou por pares isolados, como no caso do NH_3 , então os momentos de dipolo associados às ligações não se cancelam. Por isso, a molécula $CHCl_3$ é polar.

Uma molécula diatômica é polar se sua ligação for polar. Uma molécula poliatômica é polar se tiver ligações polares orientadas no espaço de maneira que os momentos de dipolo associados às ligações não se cancelem.

1G.2 A teoria da ligação de valência

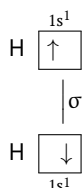
A **teoria da ligação de valência** (teoria VB) é a descrição da ligação covalente em termos dos orbitais atômicos. Concebida por Walter Heitler, Fritz London, John Slater e Linus Pauling no final da década de 1920, a teoria VB é um modelo quantomecânico da distribuição dos elétrons pelas ligações que vai além da teoria de Lewis e do modelo VSEPR e permite o cálculo numérico dos ângulos e dos comprimentos de ligação. Os conceitos e a linguagem em que ela se baseia são utilizados em toda a química.

O modelo de Lewis das ligações covalentes (Tópico 1D) presuppõe que cada par de elétrons ligantes está localizado entre dois átomos ligados — é um modelo de elétrons localizados. No entanto, a posição de um elétron em um átomo não pode ser descrita de forma precisa, mas somente em termos da probabilidade de encontrá-lo em algum lugar do espaço definido pelo orbital (Tópico 1B). A teoria da ligação de valência leva em conta a natureza ondulatória dos elétrons.

1G.2a As ligações sigma e pi

Consideremos, inicialmente, a formação de H_2 , a molécula mais simples. Cada átomo de hidrogênio no estado fundamental tem

um elétron no orbital 1s (Tópico 1B). A teoria da ligação de valência supõe que, quando os dois átomos H se aproximam, o par de elétrons 1s e os orbitais atômicos se fundem:

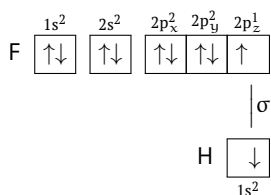


A distribuição de elétrons resultante apresenta a forma de uma salsicha, tem densidade eletrônica acumulada entre os núcleos e é chamada de *ligação* σ (ligação sigma). Em linguagem técnica:

- Uma **ligação** σ é simetricamente cilíndrica (é igual em todas as direções ao longo do eixo) e não tem planos nodais contendo o eixo internuclear.

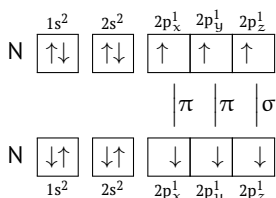
A fusão dos dois orbitais atômicos é chamada de **superposição** de orbitais. Um ponto importante a ter em mente é que quanto maior for a superposição dos orbitais, mais forte é a ligação.

Ligações semelhantes, do tipo σ , ocorrem nos halogenetos de hidrogênio. Por exemplo, antes da combinação dos átomos H e F para formar o fluoreto de hidrogênio, um elétron desemparelhado do átomo de flúor ocupa um orbital $2p_z$ e o elétron desemparelhado do átomo de hidrogênio ocupa um orbital 1s:



Estes elétrons se emparelham para formar uma ligação quando os orbitais que ocupam se superpõem e se fundem em uma nuvem que se espalha pelos dois átomos. Vista de lado, a ligação resultante tem forma mais complicada do que a das ligações σ no H_2 . No entanto, a ligação σ no HF, a qual compartilha muitas das características da ligação σ do H_2 , tem simetria cilíndrica ao longo do eixo internuclear (z) e não tem planos nodais contendo o eixo internuclear. Portanto, ela também é uma ligação σ . Todas as ligações covalentes são ligações σ .

A molécula do nitrogênio, N_2 , apresenta um tipo diferente de ligação. Ela tem um elétron desemparelhado em cada um dos três orbitais 2p de cada átomo:



Todavia, somente um dos três orbitais de cada átomo, que está no orbital $2p_z$, consegue se sobrepor frontalmente para formar uma ligação σ . Dois dos orbitais 2p de cada átomo ($2p_x$ e $2p_y$) são perpendiculares ao eixo internuclear e cada um deles contém um elétron desemparelhado. Quando esses elétrons, um de cada orbital p de um átomo de N, se emparelham, seus orbitais só podem se sobrepor lado a lado. Esse tipo de superposição leva a uma *ligação* π , uma ligação em que os dois elétrons estão em dois lobos, um de cada lado do eixo internuclear. Mais formalmente:

- Uma **ligação** π tem um único plano nodal que contém o eixo internuclear.

Embora uma ligação π tenha densidade eletrônica nos dois lados do eixo internuclear, existe só uma ligação em que a nuvem de elétrons tem dois lobos, como acontece com o orbital p, que é um orbital com dois lobos. Em uma molécula com duas ligações π , como N_2 , as densidades eletrônicas das duas ligações π se fundem, e os dois átomos parecem rodeados por um cilindro de densidade eletrônica

PONTO PARA PENSAR

Como se forma uma ligação δ (delta)?

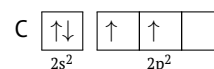
De modo geral, a teoria da ligação de valência pode ser usada nestes casos para descrever as ligações covalentes:

- Uma **ligação simples** é uma ligação σ .
- Uma **ligação dupla** é uma ligação σ mais uma ligação π .
- Uma **ligação tripla** é uma ligação σ mais duas ligações π .

Segundo a teoria da ligação de valência, as ligações se formam quando os elétrons dos orbitais atômicos da camada de valência formam pares; os orbitais atômicos se sobrepõem cabeça-cabeça para formar ligações σ ou lateralmente para formar ligações π .

1G.2b A promoção de elétrons e a hibridação de orbitais

Algumas dificuldades são observadas quando a teoria VB é aplicada ao metano. O átomo de carbono tem a configuração $[\text{He}] 2s^2 2p_x^1 2p_y^1$ com quatro elétrons de valência:

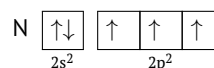


No entanto, dois elétrons já estão emparelhados e somente os dois orbitais 2p incompletos do átomo de carbono estão disponíveis para a ligação. A impressão que se tem é de que o carbono deveria ter valência 2 e formar somente duas ligações perpendiculares. Porém, sabemos que o carbono quase sempre tem valência 4 (normalmente é *tetravalente*) e no CH_4 o arranjo de ligações é tetraédrico.

Um átomo de carbono tem quatro elétrons desemparelhados disponíveis para a ligação quando um elétron é promovido, isto é, realocado em um orbital de energia mais alta. Quando um elétron 2s é promovido a um orbital 2p vazio, o átomo de carbono adquire a configuração $[\text{He}] 2s^1 2p_x^1 2p_y^1 2p_z^1$ e pode formar quatro ligações:



O caráter tetravalente do carbono deve-se à pequena energia de promoção de um átomo de carbono. Ela é pequena porque um elétron 2s é transferido de um orbital que ele partilha com outro elétron para um orbital 2p vazio. Embora o elétron fique em um orbital de maior energia, ele sofre menos repulsão de outros elétrons do que antes da promoção. Como resultado, somente uma pequena quantidade de energia é necessária para promover o elétron. O nitrogênio, vizinho do carbono, não pode utilizar a promoção para elevar o número de ligações que pode formar, porque a promoção não aumenta o número de elétrons desemparelhados que ele tem:



O mesmo ocorre com o oxigênio e o flúor. A promoção de um elétron é possível se a carga total, levando em conta todas as

contribuições para a energia e, especialmente, o maior número de ligações que podem se formar, está na direção da menor energia. O boro, $[\text{He}] 2s^2 2p^1$, como o carbono, é um elemento em que a promoção de um elétron pode levar à formação de mais ligações (três, no boro), e geralmente ele forma três ligações.

Neste ponto, parece que a promoção de um elétron leva a dois tipos de ligação no metano: uma resultante da superposição de um orbital 1s do hidrogênio com um orbital 2s do carbono e três ligações resultantes da superposição de um orbital 1s de cada hidrogênio com cada um dos três orbitais 2p do carbono. A superposição com os orbitais 2p deveria levar a três ligações σ a 90° entre si. Este modelo, todavia, não corresponde à estrutura tetraédrica conhecida do metano com quatro ligações equivalentes.

O modelo é melhorado lembrando que os orbitais s e p são ondas de densidade eletrônica centradas no núcleo do átomo. Imagine que os quatro orbitais interferem uns nos outros e produzem novos arranjos quando se cruzam, como ondas na água. Quando as funções de onda são todas positivas ou todas negativas, as amplitudes aumentam pela interferência e quando as funções de onda têm sinais opostos, as amplitudes se reduzem e eventualmente se cancelam. Por essa razão, a interferência entre orbitais atômicos origina novos padrões, chamados de orbitais híbridos. Cada um dos orbitais híbridos, denominados h_i , forma-se pela combinação linear de quatro orbitais atômicos:

$$h_1 = s + p_x + p_y + p_z$$

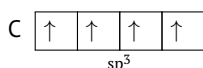
$$h_2 = s - p_x - p_y + p_z$$

$$h_3 = s - p_x + p_y - p_z$$

$$h_4 = s + p_x - p_y - p_z$$

Em h_1 , por exemplo, os orbitais s e p têm os sinais usuais e suas amplitudes se adicionam porque eles são todos positivos. Em h_2 , porém, os sinais de p_x e p_y são invertidos, logo, o padrão de interferência resultante é diferente. Esses quatro orbitais híbridos são chamados de **híbridos** sp^3 porque são formados a partir de um orbital s e três orbitais p. Eles diferem na orientação, cada um apontando para o vértice de um tetraedro. Em todos os outros aspectos eles são idênticos.

Em um diagrama de energia de orbitais, a hibridação é representada como a formação de quatro orbitais de igual energia. Esta energia é intermediária entre as energias dos orbitais s e p com os quais eles são formados:



Os orbitais híbridos sp^3 têm dois lobos, mas um dos lobos se estende além do orbital p original e o outro é mais curto. O fato de que os orbitais híbridos têm suas amplitudes concentradas em um lado do núcleo permite que eles se estendam e se sobreponham mais efetivamente com outros orbitais e, como resultado, formam ligações mais fortes do que se não ocorresse hibridação.

As ligações no metano agora podem ser explicadas. No átomo hibridado com um elétron promovido, os quatro orbitais híbridos sp^3 podem formar um par com o elétron do orbital 1s de um hidrogênio. As superposições formam quatro ligações σ que apontam para os vértices de um tetraedro regular. Agora é possível ver que a descrição dada pela teoria da ligação de valência é coerente com a forma conhecida da molécula.

Quando existe mais de um átomo *central* na molécula, a hibridação de cada átomo é ajustada à forma obtida usando o modelo VSEPR. No etano, C_2H_6 , por exemplo, os dois átomos de carbono são considerados *centrais*. De acordo com o modelo VSEPR, os quatro pares de elétrons de cada átomo de carbono assumem um arranjo tetraédrico. Esse arranjo sugere a hibridação sp^3 para os átomos de carbono, como no metano. Cada átomo de C tem um

elétron desemparelhado em cada um dos quatro orbitais híbridos sp^3 e pode formar quatro ligações σ dirigidas aos vértices de um tetraedro regular. A ligação C—C é formada pelo emparelhamento dos spins de dois elétrons um em cada orbital híbrido sp^3 de um átomo de C. Chamamos essa ligação de $\sigma(\text{C}2sp^3, \text{C}2sp^3)$ para descrever sua composição: $\text{C}2sp^3$ significa um orbital híbrido sp^3 composto por orbitais 2s e 2p de um átomo de carbono, e os parênteses mostram quais orbitais de cada átomo estão se sobrepondo. Cada ligação C—H se forma quando um elétron em um dos orbitais sp^3 restantes se emparelha com um elétron do orbital 1s de um átomo de hidrogênio (representado por $\text{H}1s$). Essas ligações são representadas por $\sigma(\text{C}2sp^3, \text{H}1s)$.

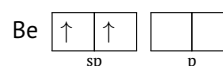
A promoção de elétrons só ocorrerá se o resultado for o abaixamento da energia provocado pela formação de novas ligações. Os orbitais híbridos são formados em um átomo para reproduzir o arranjo dos elétrons que é característico da forma experimental determinada para a molécula.

1G.2c Outros tipos comuns de hibridação

Diferentes esquemas de hibridação são usados para descrever outros arranjos de pares de elétrons. Para explicar um arranjo trigonal planar, como o do BF_3 e de cada átomo de carbono do eteno, um orbital s e dois orbitais p são misturados para produzir três orbitais híbridos sp^2 . Os três orbitais, que são idênticos (exceto pela orientação espacial) estão no mesmo plano e apontam para os vértices de um triângulo equilátero.



Um arranjo linear de pares de elétrons requer dois orbitais híbridos, então um orbital s é misturado com um orbital p para produzir dois orbitais híbridos sp. Estes dois orbitais sp híbridos apontam para direções opostas, formando um ângulo de 180° . Esta é a configuração do BeCl_2 :



Alguns dos elementos do Período 3 e posteriores podem acomodar cinco pares de elétrons ou mais, como em PCl_5 . Estes tipos de ligação são descritos por um esquema de hibridação que usa os orbitais d do átomo central. Para explicar um arranjo de bipirâmide trigonal com cinco pares de elétrons, pressupõe-se que um orbital d se misture com os orbitais s e p do átomo. Os cinco orbitais resultantes são chamados de orbitais híbridos sp^3d .

São necessários seis orbitais para acomodar os seis pares de elétrons ao redor do átomo em um arranjo octaédrico, como em SF_6 e XeF_4 . Assim, pressupomos que dois orbitais d se misturam aos orbitais s e p para gerar seis orbitais híbridos sp^3d^2 . Esses orbitais idênticos apontam para os seis vértices de um octaedro regular.

A Tab. 1G.1 resume as relações entre o arranjo de elétrons e o tipo de hibridação. Observe que o número de orbitais híbridos é sempre igual ao número de orbitais atômicos usado na sua construção:

- N orbitais atômicos sempre produzem N orbitais híbridos.

Até agora, os átomos terminais, como os átomos de cloro no PCl_5 , não foram considerados hibridados. Dados espectroscópicos e cálculos sugerem que os orbitais s e p dos átomos terminais participam das ligações e é razoável supor que seus orbitais são hibridados. O modelo mais simples é imaginar que os três pares de elétrons e o par de elétrons da ligação estão em um arranjo

TAB. 1G.1 Híbridação e forma molecular

Arranjo dos elétrons	N	Híbridação
Linear	2	sp
Trigonal planar	3	sp ²
Tetraédrico	4	sp ³
Bipirâmide trigonal	5	sp ³ d
Octaédrico	6	sp ³ d ²

tetraédrico e que os átomos de cloro ligam-se ao átomo de fósforo por orbitais híbridos sp³.

O esquema de hibridação é adotado para corresponder ao arranjo de elétrons de uma molécula. A expansão do octeto implica o envolvimento de orbitais d.

1G.2d As características das ligações múltiplas

Os átomos dos elementos do Período 2, C, N e O, formam ligações duplas uns com os outros, entre si e (especialmente o oxigênio) com átomos de elementos de períodos posteriores. Entretanto, ligações duplas são raras entre os elementos do Período 3 e posteriores porque os átomos e, consequentemente, as distâncias de ligações são muito grandes para que a superposição lateral dos orbitais p seja eficiente.

O padrão observado no eteno, CH₂=CH₂, é utilizado para descrever outras ligações duplas carbono-carbono. Os dados experimentais indicam que os seis átomos do eteno estão no mesmo plano, com ângulos de ligação H—C—H e C—C—H iguais a 120°. Esse ângulo sugere um arranjo trigonal planar para os elétrons e hibridação sp² para os átomos de C:



Cada orbital híbrido do átomo de C tem um elétron disponível para ligação. O quarto elétron de valência de cada átomo de C ocupa o orbital 2p, não hibridado, perpendicular ao plano formado pelos híbridos. Os dois átomos de carbono formam uma ligação sigma por superposição de um orbital híbrido sp² de cada átomo. Os átomos de C formam ligações sigma com os lobos remanescentes dos híbridos sp². Os elétrons dos dois orbitais 2p não hibridados formam uma ligação π por superposição lateral.

No benzeno, os átomos de C e os de H ligados a eles estão no mesmo plano e os átomos de C formam um anel hexagonal. Para descrever as ligações das estruturas de Kekulé do benzeno (Tópico 2D) nos termos da teoria VB, os orbitais híbridos nos átomos de C precisam reproduzir os ângulos de ligação de 120° do anel hexagonal. Portanto, os átomos de carbono são considerados hibridados em sp², como no eteno. Existe um elétron em cada um dos três orbitais híbridos e um elétron no orbital 2p, não hibridado, perpendicular ao plano dos híbridos. Dois orbitais híbridos sp² de cada átomo de carbono se sobrepõem aos de seus vizinhos, resultando em seis ligações σ entre eles. O orbital híbrido sp² restante se sobrepõe a um orbital 1s do hidrogênio para formar seis ligações carbono-hidrogênio. Por fim, a superposição lateral dos orbitais 2p de cada átomo de carbono resulta em uma ligação π com um dos vizinhos. O resultado é que as ligações π correspondem às duas estruturas de Kekulé, e a estrutura final é um híbrido de ressonância das duas. Essa ressonância garante que os elétrons das ligações π se espalhem por todo o anel.

A presença de uma ligação dupla carbono-carbono influencia fortemente a forma da molécula porque impede a rotação de uma parte da estrutura em relação à outra. A ligação dupla do eteno, por exemplo, torna a molécula planar. Os dois orbitais 2p se sobrepõem melhor se os dois grupos CH₂ estiverem no mesmo plano. Para que ocorresse rotação em torno da ligação dupla, a ligação π teria de se quebrar e se formar novamente.

As ligações duplas e sua influência sobre a forma das moléculas são extremamente importantes para os organismos vivos. A visão depende da forma de uma molécula chamada retinal, que existe na retina do olho. O cis-retinal mantém-se rígido por força de suas ligações duplas. Quando a luz encontra o olho, ela excita um elétron da ligação π, indicada pela seta. A ligação dupla se enfraquece e a molécula pode rodar em torno da ligação σ remanescente. Quando o elétron excitado retorna ao orbital original, a molécula é congelada na forma trans. Essa mudança de forma dispara um sinal que é transportado pelo nervo óptico até o cérebro, onde é interpretado como uma sensação de visão.

Vejam, agora, os alquinos, hidrocarbonetos com ligações triplas. A estrutura de Lewis da molécula linear do etino (acetileno) é H—C≡C—H. Uma molécula linear tem dois orbitais equivalentes separados por um ângulo de 180°, o que caracteriza hibridação sp. Cada átomo de C tem um elétron em cada um dos dois orbitais híbridos sp e um elétron em cada um dos dois orbitais perpendiculares 2p não hibridados:



Os elétrons de um dos orbitais híbridos sp em cada átomo de carbono se emparelham e formam uma ligação σ carbono-carbono. Os elétrons dos orbitais híbridos sp restantes se emparelham com os elétrons 1s do hidrogênio e formam duas ligações σ carbono-hidrogênio. Os elétrons dos dois conjuntos de orbitais 2p perpendiculares se emparelham por superposição lateral, formando duas ligações π em 90°. Como na molécula do N₂, a densidade eletrônica nas ligações π forma um cilindro em torno do eixo da ligação C—C.

A teoria da ligação de valência explica por que uma ligação dupla carbono-carbono é mais forte do que uma ligação simples carbono-carbono, porém mais fraca do que a soma de duas ligações simples (Tópico 2E), e por que uma ligação tripla carbono-carbono é mais fraca do que a soma de três ligações simples. Uma ligação simples C—C é uma ligação σ, mas as ligações adicionais de uma ligação múltipla são ligações π. Uma razão para a diferença de força está na superposição lateral dos orbitais p, que é menor e mais fraca em uma ligação π do que a superposição cabeça-cabeça que leva a uma ligação σ. A superposição lateral também explica por que raramente são encontradas ligações duplas nos átomos dos elementos dos períodos posteriores ao Período 3. Os átomos são muito grandes para se sobreporem de maneira eficiente e formar uma ligação.

Nas ligações múltiplas, um átomo forma uma ligação σ, usando um orbital híbrido sp ou sp², e uma ou mais ligações π, usando orbitais p não hibridados. A superposição lateral que produz uma ligação π restringe a rotação das moléculas, resulta em ligações mais fracas do que as ligações σ e impede que átomos com raios maiores formem ligações múltiplas

Nível I

1G.01 Considere as moléculas:

1. BeH₂
2. ClF₂⁺
3. I₃⁻
4. NO₂⁻

Assinale a alternativa com a forma de cada molécula, respectivamente.

- A** angular; linear; angular; linear
- B** linear; angular; angular; linear
- C** linear; angular; linear; angular
- D** angular; angular; linear; linear
- E** angular; linear; linear; angular

1G.02 Considere as moléculas:

1. NOF
2. ClF_2^-
3. ClO_2^-
4. N_3^-

Assinale a alternativa com a hibridização do átomo central de cada molécula, respectivamente.

- A** sp^2 ; sp^3 ; sp^3d ; sp
- B** sp^2 ; sp^3d ; sp^3 ; sp
- C** sp^2 ; sp^3 ; sp ; sp^3d
- D** sp^3 ; sp ; sp^2 ; sp^3d
- E** sp^3d ; sp ; sp^2 ; sp^3

1G.03 Considere as moléculas:

1. N_2O
2. O_3
3. KrF_2
4. OF_2

Assinale a alternativa com ângulos de cada molécula, respectivamente.

- A** 180° ; 180° ; $103,1^\circ$; $116,8^\circ$
- B** 180° ; $116,8^\circ$; 180° ; $103,1^\circ$
- C** 180° ; $116,8^\circ$; $103,1^\circ$; 180°
- D** 180° ; $103,1^\circ$; 180° ; $116,8^\circ$
- E** $103,1^\circ$; 180° ; $116,8^\circ$; 180°

1G.04 Considere as moléculas:

1. C_2H_2
2. C_2O_3
3. HNCO
4. HOCN

Assinale a alternativa que mais se aproxima dos ângulos de cada molécula, respectivamente.

- A** 180° ; 180° ; 180° e $109,5^\circ$; 180° e 120°
- B** 180° ; 180° ; 180° e 120° ; 180° e $109,5^\circ$
- C** 180° e 120° ; 180° ; 180° ; 180° e $109,5^\circ$
- D** 180° e $109,5^\circ$; 180° e 120° ; 180° ; 180°
- E** 180° e 120° ; 180° e $109,5^\circ$; 180° ; 180°

1G.05 Considere as moléculas:

1. BeCl_2
2. XeF_2
3. SO_2
4. H_2S

Assinale a alternativa que relaciona as moléculas *polares*.

- A** 3
- B** 4
- C** 3 e 4
- D** 1, 3 e 4
- E** 2, 3 e 4

1G.06 Considere as moléculas:

1. NH_2^+
2. ClOF
3. Br_3^-
4. OCS

Assinale a alternativa que relaciona as moléculas *polares*.

- A** 1 e 2
- B** 1 e 4
- C** 2 e 4
- D** 1, 2 e 4
- E** 1, 2, 3 e 4

1G.07 Considere as moléculas:

1. CO_3^{2-}
2. XeO_3
3. SF_3^-
4. H_3O^+

Assinale a alternativa com a forma de cada molécula, respectivamente.

- A** em T; pirâmide trigonal; trigonal planar; pirâmide trigonal
- B** trigonal planar; pirâmide trigonal; em T; pirâmide trigonal
- C** pirâmide trigonal; em T; trigonal planar; pirâmide trigonal
- D** pirâmide trigonal; pirâmide trigonal; em T; trigonal planar
- E** pirâmide trigonal; trigonal planar; em T; pirâmide trigonal

1G.08 Considere as moléculas:

1. PCl_3
2. NO_3^-
3. XeOF_2
4. ClO_3^-

Assinale a alternativa com a hibridização do átomo central de cada molécula, respectivamente.

- A** sp^3 ; sp^3d ; sp^2 ; sp^3
- B** sp^3 ; sp^2 ; sp^3d ; sp^3
- C** sp^3 ; sp^2 ; sp^3 ; sp^3d
- D** sp^2 ; sp^3d ; sp^3 ; sp^3
- E** sp^3d ; sp^2 ; sp^3 ; sp^3

1G.09 Considere as moléculas:

1. BH_3
2. NH_3
3. ClF_3
4. COCl_2

Assinale a alternativa com ângulos de cada molécula, respectivamente.

- A** $87,5^\circ$; 120° ; $107,2^\circ$; $111,8^\circ$ e $124,1^\circ$
- B** 120° ; $87,5^\circ$; $111,8^\circ$ e $124,1^\circ$; $107,2^\circ$
- C** 120° ; $107,2^\circ$; $87,5^\circ$; $111,8^\circ$ e $124,1^\circ$
- D** $111,8^\circ$ e $124,1^\circ$; $87,5^\circ$; $107,2^\circ$; 120°
- E** 120° ; $107,2^\circ$; $111,8^\circ$ e $124,1^\circ$; $87,5^\circ$

1G.10 Considere as moléculas:

1. N_2H_4
2. N_2O_4
3. C_2H_4
4. CH_3NH_2

Assinale a alternativa que mais se aproxima dos ângulos de cada molécula, respectivamente.

- A** $109,5^\circ$; $109,5^\circ$; 120° ; 120°
- B** $109,5^\circ$; 120° ; $109,5^\circ$; 120°
- C** $109,5^\circ$; 120° ; 120° ; $109,5^\circ$
- D** 120° ; $109,5^\circ$; 120° ; $109,5^\circ$
- E** 120° ; 120° ; $109,5^\circ$; $109,5^\circ$

1G.11 Considere as moléculas:

1. BF_3 2. AsF_3 3. SO_3 4. IF_3

Assinale a alternativa que relaciona as moléculas *polares*.

- A** 2 **B** 4 **C** 2 e 4
D 1, 2 e 4 **E** 2, 3 e 4

1G.12 Considere as moléculas:

1. CH_3^- 2. CH_3^+ 3. CH_2O 4. XeF_3^+

Assinale a alternativa que relaciona as moléculas *polares*.

- A** 1 e 3 **B** 1 e 4 **C** 3 e 4
D 1, 3 e 4 **E** 1, 2, 3 e 4

1G.13 Considere as moléculas:

1. SiF_4 2. IF_4^+ 3. SO_2Cl_2 4. ClF_4^-

Assinale a alternativa com a forma de cada molécula, respectivamente.

- A** tetraedro; gangorra; quadrado planar; tetraedro
B tetraedro; gangorra; tetraedro; quadrado planar
C quadrado planar; tetraedro; gangorra; tetraedro
D tetraedro; quadrado planar; tetraedro; gangorra
E tetraedro; tetraedro; gangorra; quadrado planar

1G.14 Considere as moléculas:

1. IF_4^- 2. IO_2F_2^- 3. $\text{S}_2\text{O}_3^{2-}$ 4. NSF_3

Assinale a alternativa com a hibridização do átomo central de cada molécula, respectivamente.

- A** sp^3 ; sp^3d^2 ; sp^3 ; sp^3d **B** sp^3 ; sp^3d ; sp^3d^2 ; sp^3
C sp^3d^2 ; sp^3 ; sp^3 ; sp^3d **D** sp^3d^2 ; sp^3d ; sp^3 ; sp^3
E sp^3d^2 ; sp^3 ; sp^3d ; sp^3

1G.15 Considere as moléculas:

1. POCl_3 2. SF_4 3. BH_4^- 4. XeF_4

Assinale a alternativa com ângulos de cada molécula, respectivamente.

- A** $109,5^\circ$; 90° ; $101,6^\circ$ e $173,1^\circ$; $115,8^\circ$ e $102,5^\circ$
B 90° ; $109,5^\circ$; $101,6^\circ$ e $173,1^\circ$; $115,8^\circ$ e $102,5^\circ$
C $101,6^\circ$ e $173,1^\circ$; $115,8^\circ$ e $102,5^\circ$; 90° ; $109,5^\circ$
D 90° ; $115,8^\circ$ e $102,5^\circ$; $101,6^\circ$ e $173,1^\circ$; $109,5^\circ$
E $115,8^\circ$ e $102,5^\circ$; $101,6^\circ$ e $173,1^\circ$; $109,5^\circ$; 90°

1G.16 Considere as moléculas:

1. $\text{O}(\text{CH}_3)_2$ 2. $\text{Be}(\text{CH}_3)_2$ 3. $\text{S}_2\text{O}_8^{2-}$ 4. FSSF_3

Assinale a alternativa que mais se aproxima dos ângulos de cada molécula, respectivamente.

- A** $109,5^\circ$; $109,5^\circ$; $109,5^\circ$ e 180° ; 90° , $109,5^\circ$ e 120°
B $109,5^\circ$ e 180° ; $109,5^\circ$; $109,5^\circ$; 90° , $109,5^\circ$ e 120°
C 90° , $109,5^\circ$ e 120° ; $109,5^\circ$; $109,5^\circ$ e 180° ; $109,5^\circ$
D 90° , $109,5^\circ$ e 120° ; $109,5^\circ$; $109,5^\circ$; $109,5^\circ$ e 180°
E $109,5^\circ$; $109,5^\circ$ e 180° ; $109,5^\circ$; 90° , $109,5^\circ$ e 120°

1G.17 Considere as moléculas:

1. CH_4 2. XeO_4 3. TeF_4 4. KrF_4

Assinale a alternativa que relaciona as moléculas *polares*.

- A** 3 **B** 4 **C** 1 e 3 **D** 2 e 3 **E** 3 e 4

1G.18 Considere as moléculas:

1. PF_4^- 2. CH_2F_2 3. BrF_4^- 4. AlCl_4^-

Assinale a alternativa que relaciona as moléculas *polares*.

- A** 1 **B** 2 **C** 1 e 2
D 1, 2 e 3 **E** 1, 2 e 4

1G.19 Considere as moléculas:

1. SeF_6 2. SF_5^+ 3. XeOF_4 4. SnF_6^{2-}

Assinale a alternativa com a forma de cada molécula, respectivamente.

- A** octaedro; octaedro; trigonal bipiramidal; pirâmide quadrada
B pirâmide quadrada; octaedro; octaedro; trigonal bipiramidal
C octaedro; trigonal bipiramidal; pirâmide quadrada; octaedro
D pirâmide quadrada; trigonal bipiramidal; octaedro; octaedro
E trigonal bipiramidal; octaedro; pirâmide quadrada; octaedro

1G.20 Considere as moléculas:

1. XeO_3F_2 2. SOF_4 3. XeF_5^+ 4. XeO_6^{4-}

Assinale a alternativa com a hibridização do átomo central de cada molécula, respectivamente.

- A** sp^3d ; sp^3d^2 ; sp^3d ; sp^3d^2 **B** sp^3d ; sp^3d ; sp^3d^2 ; sp^3d^2
C sp^3d ; sp^3d^2 ; sp^3d^2 ; sp^3d **D** sp^3d^2 ; sp^3d^2 ; sp^3d ; sp^3d
E sp^3d^2 ; sp^3d ; sp^3d ; sp^3d^2

1G.21 Considere as moléculas:

1. PCl_6^- 2. AsF_5 3. IF_7 4. IF_5

Assinale a alternativa com ângulos de cada molécula, respectivamente.

- A** 72° e 90° ; 90° ; $81,9^\circ$; 90° e 120°
B 90° ; 90° e 120° ; 72° e 90° ; $81,9^\circ$
C 72° e 90° ; 90° e 120° ; $81,9^\circ$; 90°
D 90° ; $81,9^\circ$; 72° e 90° ; 90° e 120°
E $81,9^\circ$; 72° e 90° ; 90° e 120° ; 90°

1G.22 Considere as moléculas:

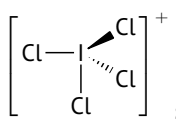
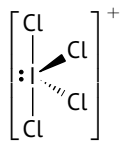
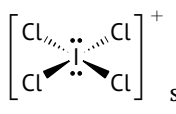
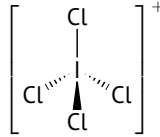
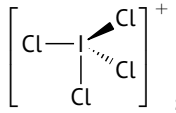
1. PF_4^- 2. CH_2F_2 3. BrF_4^- 4. AlCl_4^-

Assinale a alternativa que relaciona as espécies polares.

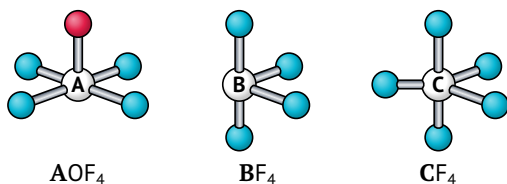
- A** 1 **B** 2 **C** 1 e 2
D 1, 2 e 3 **E** 1, 2 e 4

Nível II

1G.23 **Assinale** a alternativa com a estrutura e a hibridização correta para a molécula ICl_4^+ .

- A**  sp^3 **B**  sp^3d
C  sp^3d^2 **D**  sp^3
E  sp^3d

1G.24 As moléculas AOF_4 , BF_4 e CF_4 apresentam as formas geométricas representadas no modelo de bola e palito, respectivamente,



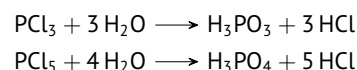
Assinale a alternativa que indica, respectivamente, as possíveis identidades dos elementos **A**, **B** e **C**.

- A** Br, Te, Sb **B** As, Sn, Sb **C** Se, Sb, Cl
D Xe, S, P **E** Bi, Pb, As

1G.25 **Assinale** a alternativa correta a respeito de geometria molecular.

- A** O BF_3 tem a mesma geometria do ClF_3 , ressalvada a diferença de dois pares de elétrons não ligantes.
B O íon I_3^- tem ângulos de ligação ligeiramente inferiores a 180° , devido à presença de três pares de elétrons não ligantes na estrutura.
C As moléculas SO_2 e NO_2 possuem geometria angular e ângulo de ligação ligeiramente inferior a 120° .
D O ângulo de ligação em NF_3 é menor que o ângulo de ligação em PF_3 .
E As moléculas O_3 , CCl_4 e PCl_5 são moléculas apolares.

1G.26 Considere as reações:



Assinale a alternativa correta.

- A** O ácido fosforoso é um triácido formado por ligações covalentes.
B Os ânions fosfato e fosfito, HPO_3^{2-} , possuem geometria tetraédrica.
C As reações podem ser classificadas como reações de deslocamento ou troca simples.
D O fósforo sofre oxidação em ambas as reações.
E O pentacloreto de fósforo gasoso é um composto iônico.

1G.27 Considere as seguintes proposições para espécies químicas no estado gasoso:

- I. A energia de ionização do íon Be^{3+} é maior do que a do íon He^+ .
 II. O momento dipolar elétrico total da molécula de XeF_4 é maior do que o da molécula de XeF_2 .
 III. A energia necessária para quebrar a molécula de F_2 é maior do que a energia necessária para quebrar a molécula de O_2 .
 IV. A energia do orbital 2s do átomo de berílio é igual à energia do orbital 2s do átomo de boro.

Assinale a alternativa que relaciona as proposições corretas.

- A** I **B** I e IV **C** II
D II e III **E** IV

1G.28 Considere as seguintes moléculas no estado gasoso:

- a. OF_2 b. BeF_2 c. AlCl_3 d. CS_2

Apresente as estruturas de Lewis, as geometrias moleculares e a polaridade de cada uma das moléculas.

1G.29 Considere as seguintes espécies no estado gasoso:

- a. BF_3 b. SnF_3^- c. BrF_3 d. KrF_4 e. BrF_5

Apresente, para cada uma delas, a hibridização do átomo central e o nome da geometria molecular.

1G.30 Considere as seguintes espécies químicas no estado gasoso:

1. ONNO_2 2. FCIO_2 3. ICl_3 4. OCIF_4^-

Assinale a alternativa com a hibridização dos átomos indicados nas moléculas, respectivamente.

- A** sp^2, sp^3, dsp^3 e d^2sp^3 . **B** sp^2, sp^2, sp^3 e dsp^3 .
C sp^3, dsp^3, d^2sp^3 e sp^3 . **D** sp^3, sp^2, dsp^3 e d^2sp^3 .
E sp, dsp^3, sp^3 e dsp^3 .

1G.31 Considere as espécies no estado gasoso:

- a. XeOF_4 b. XeOF_2 c. XeO_4 d. XeF_4

Escreva a estrutura de Lewis para cada uma das moléculas a seguir, prevendo a geometria molecular (incluindo os ângulos de ligação) e os orbitais híbridos no átomo central.

1G.32 Considere as espécies no estado gasoso:

1. OF_2 2. SF_2 3. BF_3 4. NF_3 5. CF_4 6. XeO_4

Assinale a opção que contém a geometria molecular das espécies, respectivamente.

- A** Angular, linear, piramidal, piramidal, tetraédrica e quadrado planar.
B Linear, linear, trigonal plana, piramidal, quadrado planar e quadrado planar.
C Angular, angular, trigonal plana, piramidal, tetraédrica e tetraédrica.
D Linear, angular, piramidal, trigonal plana, angular e tetraédrica.
E Trigonal plana, linear, tetraédrica, piramidal, tetraédrica e quadrado planar.

Gabarito: Nível I

- 1G.01 **C** 1G.02 **B** 1G.03 **B** 1G.04 **B** 1G.05 **C** 1G.06 **D**
1G.07 **E** 1G.08 **B** 1G.09 **C** 1G.10 **C** 1G.11 **C** 1G.12 **D**
1G.13 **B** 1G.14 **D** 1G.15 **E** 1G.16 **E** 1G.17 **A** 1G.18 **C**
1G.19 **C** 1G.20 **B** 1G.21 **B** 1G.22 **C**

Gabarito: Nível II

- 1G.23 **B** 1G.24 **D** 1G.25 **C** 1G.26 **B** 1G.27 **A** 1G.30 **A**
1G.32 **C**